

LN-02

به نام پروردگار

معادله ی کپلر؛

روش های حل و بررسی آن در مدارات مختلف نیروهای عکس مجذوری

hiaino@yahoo.com

علی ایزدی راد

چکیده:

معادله ی زمان - مکان جسم در مدارهای دایروی، بیضوی، سهموی و بیضوی بررسی می شوند و به حل معادله توسط روش های تقریبی پرداخته می شود

۱ مقدمه

از زمانی که بشر به این دست یافت که حرکت اجسام در اثر گرانش موجود در منظومه ی شمسی، باعث ایجاد مدارهایی با ویژگی های مشخص می شود بر آن شد که جنبه های گوناگون حرکت را واکاوی کند. یکی از مهمترین مسائل، یافتن مکان تابع زمان جسم $\vec{r}(t)$ ، بوده است. شاید کپلر از پیشگامان حل این مسئله بوده است، به گونه ای که حل این مسئله مهم در ناوبری فضایی به معادله ی کپلر مشهور است. در این مقاله سعی داریم به بررسی این مسئله بپردازیم.

۲ فیزیک حرکت

۱.۲ بررسی خواص مهم تابع نیروی گرانش

طبق قانون جهانی گرانش نیروی گرانش ناشی از اجسام (حداقل در محدوده ی منظومه ی شمسی) به صورت زیر بیان می شود

$$\vec{F}(r)_{1 \rightarrow 2} = -\frac{Gm_1 m_2}{r^2} \hat{r} \quad (1)$$

از آن جا که این معادله ی نیروی تنها دارای بردار یکه ی شعاعی (\hat{r}) می باشد در نتیجه طبق تعریف ، این نیرو ”مرکزی“ است . با توجه به اینکه

$$\begin{aligned} \nabla \times F &= \frac{1}{r \sin \theta} \left[\frac{\partial}{\partial \theta} (\sin \theta F_\phi) - \frac{\partial F_\theta}{\partial \phi} \right] \hat{r} + \quad (2) \\ &\frac{1}{r} \left[\frac{1}{\sin \theta} \frac{\partial F_r}{\partial \phi} - \frac{\partial}{\partial r} (r F_\phi) \right] \hat{\theta} + \frac{1}{r} \left[\frac{\partial}{\partial r} (r F_\theta) - \frac{\partial F_r}{\partial \theta} \right] \hat{\phi} = 0 \end{aligned}$$

نتیجه گرفته می شود که نیروی گرانش یک نیروی ”مرکزی همسانگرد پایستار“ است

تکانه زاویه ای پایستار است زیرا

$$\begin{aligned} \frac{d\vec{L}}{dt} &= \vec{\tau} = \vec{R} \times \vec{F} \quad (3) \\ &= (r\hat{r}) \times (f(r)\hat{r}) = (r \cdot f(r)) \hat{r} \times \hat{r} \\ &= 0 \\ \implies \vec{L} &= constant \end{aligned}$$

۲.۲ حرکت دو جسم

اگر دو جسم در فضای ایزوله در مجاورت یکدیگر قرار بگیرند مطابق قانون گرانش نیوتون (رابطه ی ۱، صفحه ی ۲) به یکدیگر نیرو وارد می کند که این نیرو در راستای خط واصلی دو جسم است. در دستگاه مختصات قطبی با مبداء دلخواه قانون دوم نیوتون را می توان این گونه نوشت

$$m_1 \ddot{r} = F(r) \hat{r} \quad (4)$$

$$m_2 \ddot{r}_2 = -F(r) \hat{r} \quad (5)$$

بردارِ واصلِ دو جسم ، $\vec{r} = \vec{r}_1 - \vec{r}_2$ است. با ترکیبِ معادلات (۴،۵):

$$\frac{m_1 m_2}{m_1 + m_2} (\ddot{r}_1 - \ddot{r}_2) = F(r) \hat{r} \quad (6)$$

با تعریفِ جرمِ کاهشیده به صورتِ

$$\mu := \frac{m_1 m_2}{m_1 + m_2} \quad (7)$$

معادله ی دو جسم (۶) را می توان به صورتِ صوری به شکلِ معادله ی تک جرمی نوشت:

$$\mu \ddot{r} = F(r) \hat{r} \quad (8)$$

آن چه که ما انجام دادیم تبدیلِ دو معادله به یک معادله ی کلی تر است که در آن یک جسمِ مجازی به نام μ (۷) به دورِ یک جرمِ مرکزی ثابت به جرم $M = m_1 + m_2$ می گردد.

حال می خواهیم معادلاتِ حرکتِ جسم μ را بررسی کنیم.

$$\mu \ddot{\vec{r}} = F(r) \hat{r}$$

$$\mu(\ddot{r} - r\dot{\theta}^2) \hat{r} + \mu(r\ddot{\theta} + 2\dot{r}\dot{\theta}) \hat{\theta} = F(r) \hat{r} \quad (9)$$

پس

$$\mu(r\ddot{\theta} + 2\dot{r}\dot{\theta}) = 0 \quad (10)$$

$$\mu(\ddot{r} - r\dot{\theta}^2) = F(r) \quad (11)$$

۳.۲ ثابت های حرکت

طبق معادله ی (۳) ، بردارِ تکانه زاویه ای ثابت است در نتیجه اندازه و جهت آن در فضا ثابت است و بنابراین اندازه ی تکانه زاویه ای را می توان به عنوان ” ثابت حرکت “ در نظر

گرفت :

$$\begin{aligned}\vec{L} = \vec{r} \times \vec{p} &= (r\hat{r}) \times \mu(r\dot{r}\hat{r} + r\dot{\theta}\hat{\theta}) \\ &= \mu r^2 \dot{\theta} \hat{\phi}\end{aligned}\quad (12)$$

در نتیجه

$$|\vec{L}| = L = \mu r^2 \dot{\theta} = \text{const} \quad (13)$$

با استفاده از معادلات (۳۱ و ۱۱)

$$\begin{aligned}\mu \ddot{r} \dot{r} - \frac{L^2}{\mu r^3} \dot{r} &= F(r) \dot{r} \\ &= \frac{d}{dt} \left(\frac{1}{2} \mu \dot{r}^2 + \frac{L^2}{2\mu r^2} \right)\end{aligned}\quad (14)$$

حال در سمت راست معادله

$$F(r) \dot{r} = - \frac{dV(r)}{dr} \frac{dr}{dt} = - \frac{dV(r)}{dt} \quad (15)$$

که $V(r)$ تابع پتانسیل ناشی از تابع نیروی گرانش نیوتون است که توانستیم با برقراری معادله ی (۲) بنویسیم. حال از معادلات (۴۱ و ۵۱)

$$\frac{d}{dt} \left(\frac{1}{2} \mu \dot{r}^2 + \frac{L^2}{2\mu r^2} + V(r) \right) = 0 \quad (16)$$

و در آخر به ثابت دیگر حرکت که آن را "انرژی مکانیکی جسم" می نامیم، می رسم

$$\begin{aligned}E &= \text{constant} = \frac{1}{2} \left(\mu \dot{r}^2 + \frac{L^2}{\mu r^2} \right) + V(r) \\ &= \frac{1}{2} \mu v^2 + V(r) \\ &= K + V\end{aligned}\quad (17)$$

۴.۲ حل معادلات حرکت با استفاده از ثوابت حرکت

با استفاده از معادله ی (۱۷)

$$\dot{r} = \frac{dr}{dt} = \sqrt{\frac{2}{\mu} (E - V) - \frac{L^2}{\mu^2 r^2}} \quad (18)$$

از طرفی

$$\dot{\theta} = \frac{d\theta}{dt} = \frac{L}{\mu r^2} \quad (19)$$

با ترکیب دو معادله

$$\theta(r) - \theta(\circ) = \int_{r'}^{r'} \frac{(\frac{L}{\mu r^2}) dr}{\sqrt{\frac{2}{\mu}(E - V) - \frac{L^2}{\mu^2 r^2}}} \quad (20)$$

پس از حل این انتگرال و توجه به علامت پارامترها و قرار دادن $\frac{-k}{r}$ پس از کمی ساده سازی میرسیم به :

$$r = \frac{\frac{L^2}{\mu k}}{1 + \sqrt{1 + \frac{2EL^2}{\mu k^2}} \sin \theta} \quad (21)$$

معادله ی (21) فرم کلی تابع مکان جرم کاهیده به دور جسم مرکزی را به دست می دهد. که از مشابهت آن با معادله ی کلی مقاطع مخروطی ، در می یابیم که مسیر حرکت جسم ناشی از نیروی گرانش به صورت ” دایره-بیضی- سهمی (یا خط راست)- هذلولی “ خواهد بود

۵.۲ مقاطع مخروطی

فرم کلی ی مقاطع مخروطی به صورت های زیر است :

$$r = \begin{cases} a & \text{circle orbits} \\ \frac{a(1-e^2)}{1+e \cos \theta} & \text{Elipse orbits} \\ \frac{2p}{1+\cos \theta} & \text{quadratic orbits} \\ \frac{a(e^2-1)}{1+e \cos \theta} & \text{parabola orbits} \end{cases}$$

از برابری معادلات می توان به رابطه ی پارامترهای هندسی با پارامترهای مداری دست یافت.

۳ معادله ی کپلر برای مدارهای بیضوی

دانستیم که معادله ی حرکت جسم در مسیر بیضوی به صورت زیر است :

$$r = \frac{a(1 - e^2)}{1 + e \cos \theta}$$

طبق قانون دوم کپلر

$$\begin{aligned} \frac{dA}{dt} &= \frac{r^2 \dot{\theta}}{2} \\ &= \frac{L}{2\mu} = const \quad (22) \\ &= \frac{A_{eclipse}}{T} = \frac{\pi ab}{T} \end{aligned}$$

در نتیجه :

$$\begin{aligned} \int dA &= \frac{\pi ab}{T} t \quad (23) \\ &= \frac{1}{2} \int r^2 d\theta \\ &= \int_0^\theta \frac{a^2 (1 - e^2)^2}{(1 + e \cos \theta)^2} d\theta \end{aligned}$$

با انتگرال گیری و کمی ساده سازی داریم

$$\frac{2\pi t}{T} = 2 \arctan \left(\sqrt{\frac{1-e}{1+e}} \tan \frac{\theta}{2} \right) - \frac{e \sqrt{1-e^2} \sin \theta}{1 + e \cos \theta} \quad (24)$$

اگر تعریف کنیم :

$$\tan \frac{E}{2} = \sqrt{\frac{1-e}{1+e}} \tan \frac{\theta}{2} \quad (25)$$

آنگاه :

$$\frac{2\pi t}{T} := M = E - e \sin E \quad (26)$$

معادله ی (26) را « معادله ی کپلر » می گویند
 E به زاویه آنومالی خروج از مرکزی مشهور است .

۴ معادله ی کپلر برای مدار سهموی

$$\begin{aligned} \int dA &= \frac{\pi ab}{T} t \quad (27) \\ &= \frac{1}{2} \int r^2 d\theta \end{aligned}$$

$$= \int_0^\theta \frac{4p^2}{(1 + \cos \theta)^2} d\theta$$

$$= \frac{p^2}{2} \int_0^\theta \sec^2 \frac{\theta}{2} d\frac{\theta}{2} \quad (28)$$

$$(29)$$

اما:

$$L = r_p V_p = p \sqrt{\frac{2\mu}{p}} \quad (30)$$

و اگر تعریف کنیم:

$$T := \frac{2\pi(2p)^{\frac{5}{2}}}{\sqrt{\mu}} \quad (31)$$

آن گاه با حل انتگرال داریم:

$$\frac{2\pi t}{T} := M = \frac{1}{2} \left(\tan \frac{\theta}{2} + \frac{1}{3} \tan^3 \frac{\theta}{2} \right) \quad (32)$$

و حال اگر تعریف کنیم:

$$E := \frac{1}{2} \tan \frac{\theta}{2} \quad (33)$$

داریم

$$\frac{2\pi t}{T} = M = E + \frac{1}{3} E^3 \quad (34)$$

رابطه ی بالا معادله ی کپلر در سهمی است.

۵ معادله ی کپلر در مدار هذلولی

مطابق گفته های قبلی

$$\int dA = \frac{\pi ab}{T} t \quad (35)$$

$$= \frac{1}{2} \int r^2 d\theta$$

$$= \int_0^\theta \frac{a^2 (e^2 - 1)^2}{(1 + e \cos \theta)^2} d\theta$$

اکنون با تعریف زیر

$$T = \frac{2\pi(a)^{\frac{3}{2}}}{\sqrt{\mu}} \quad (36)$$

و محاسبه ی L در هذلولی می رسمیم به این که :

$$\begin{aligned} \frac{2\pi t}{T} =: M &= \int \frac{(e^2 - 1)^{\frac{3}{2}}}{(1 + e \cos \theta)^2} d\theta \quad (37) \\ &= \frac{1}{1 + e \cos \theta} \left(-2 \tanh^{-1} \left[\sqrt{\frac{e-1}{e+1}} \tan \frac{\theta}{2} \right] \right) - \\ &\quad \frac{1}{1 + e \cos \theta} \left(2e \tanh^{-1} \left[\sqrt{\frac{e-1}{e+1}} \tan \frac{\theta}{2} \right] \cos \theta - e\sqrt{e^2 - 1} \sin \theta \right) \end{aligned}$$

اگر تعریف کنیم :

$$\tanh \frac{E}{2} = \sqrt{\frac{e-1}{e+1}} \tanh \frac{\theta}{2} \quad (38)$$

آنگاه :

$$\frac{2\pi t}{T} = M = e \sinh E - E \quad (39)$$

معادله ی بالا معادله ی کپلر در هذلولی می باشد

6 روش های حل

دانستیم که معادله کپلر که رابطه ی میان زمان و مکان جسم را در مدارش به دور جسم مرکزی به دست می دهد در حالت بیضوی به صورت زیر است و در دیگر مدارها هم معادله را به دست آوردیم

$$M = E - e \sin E$$

اکنون می خواهیم به این مسئله بپردازیم که : ”چگونه با داشتن M و e می توان E را پیدا نمود؟“ . از آنجا که معادله کپلر یک معادله ی خطی و سراسری نیست، باید به کمک روش های حل تقریبی به حل آن اقدام کنیم .
در اینجا چندین روش را بیان می کنیم. قبل از هر چیز باید توجه داشته باشیم که در این معادله E بر حسب رادیان بیان می شود!

۱.۶ مقدمه

ریشه یابی معادلات تک متغیری (در اینجا $x = E$ متغیر است.) همراه با سه محدودیت است که به زبان ریاضی داریم:

الف) $y = f(x)$ در فاصله ی $[a, b]$ که $a < b$ پیوسته باشد

$$f(a) \cdot f(b) < 0$$

(ب)

$$f'(x) \neq 0 \quad \forall x \in [a, b]$$

(ج)

زیرا:

الف) ریشه را باید در بازه ای مشخص پیدا کرد

ب) باید در آن بازه ریشه ای وجود داشته باشد

ج) ریشه معادله در آن بازه یکتا باشد

۲.۶ روش نصف فاصله (تتصیف)

با توجه به شکل ، الگوریتم زیر را پیاده می کنیم :

پس از برقراری سه شرط مذکور ، نخست مقدار C را که برابر است با $C = \frac{a+b}{2}$ محاسبه می کنیم . سپس $f(c)$ را با $f(a)$ مقایسه می کنیم اگر $f(c)$ و $f(a)$ هم علامت بودند ، مقدار c را به جای مقدار a جایگذاری می کنیم و اگر $f(c)$ و $f(b)$ هم علامت بودند ، مقدار c را به جای مقدار b جایگزین می کنیم . این کار را انجام می دهیم تا $f(c)$ از دقت خواسته شده کمتر شود . آن گاه c جواب معادله ی $f(x) = 0$ است .

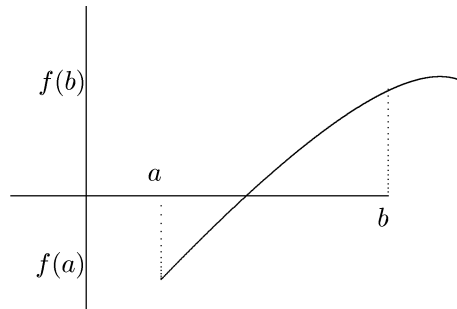
مثال . معادله ی کپلر به ازای $M = 0.3$ و $e = 0.15$ حل کنید. (با دقت ۱۰۰۰۰۰۱ رادیان)

حل .

ابتدا سه شرط را بررسی می کنیم:

$$M = E - e \sin E \Rightarrow 0.3 = E - 0.15 \sin E \Rightarrow$$

$$E - 0.15 \sin E - 0.3 = 0 = F(E)$$



I بازه ی جواب را بررسی می کنیم :

$$\begin{aligned}
 -1 \leq \sin E \leq 1 &\Rightarrow 0.15 \geq -0.15 \sin E \geq -0.15 \\
 &\Rightarrow -0.15 \geq -0.15 \sin E - 0.3 \geq -0.45 \\
 &\quad \boxed{0.15 \leq E \leq 0.45} \\
 &\quad \boxed{D_{f(x)} = [a, b] = [0.15, 0.45]}
 \end{aligned}$$

II

$$\begin{aligned}
 f(b) &= 0.08, \quad f(a) = -0.17 \\
 &\Rightarrow f(a) \cdot f(b) < 0
 \end{aligned}$$

III

$$f'(x) = \frac{d}{dE}(E - 0.15 \sin E - 0.3) = 1 - 0.15 \cos E > 0$$

توجه داریم که $\cos E$ در بازه ی 0.15 تا 0.45 مثبت است و $\cos E$ در این بازه ی کمتر از ۱ است.

پس شرایط برقرار است حال :

a^-	b^+	c	$f(c)$	$sign$
۰.۱۵	۰.۴۵	۰.۳۰۰۰۰۰	-۰.۰۴۴۳۲	-
۰.۳	۰.۴۵	۰.۳۷۵۰۰	+۰.۰۲۰۰۶	+
۰.۳	۰.۳۷۵	۰.۳۳۷۵۰	-۰.۰۱۲۱۶۹	-
۰.۳۳۷۸۵	۰.۳۷۵	۰.۳۵۶۲۵	+۰.۰۰۳۹۳	-
۰.۳۳۷۵	۰.۳۷۵	۰.۳۴۶۹	-۰.۰۰۴۱۲۷	-
۰.۳۴۶۸۷۵	۰.۳۵۶۲۵	۰.۳۵۱۵۶۲۵	-۰.۰۰۰۰۹	-
۰.۳۵۱۵۶۲۵	۰.۳۵۶۲۵	۰.۳۵۲۷۳	+۰.۰۰۱۹۲	+
۰.۳۵۱۵۶۲۵	۰.۳۵۳۹۰۶۲۵	۰.۳۵۲۷۳	+۰.۰۰۰۹۱	+
۰.۳۵۱۵۶۲۵	۰.۳۵۲۷۳۴۳۷۵	۰.۳۵۲۱۵	+۰.۰۰۰۴۱	+
۰.۳۵۱۵۶۲۵	۰.۳۵۲۱۴۸۴۳۷	۰.۳۵۱۸۵	+۰.۰۰۰۱۶	+
۰.۳۵۱۵۶۲۵	۰.۳۵۱۸۵۵۴۶۸	۰.۳۵۱۷۰	+۰.۰۰۰۰۳	+
۰.۳۵۱۵۶۲۵	۰.۳۵۱۷۰۸۹۴	۰.۳۵۱۶۳	-۰.۰۰۰۰۳	-
۰.۳۵۱۶۳۵۷۲	۰.۳۵۱۷۰۸۹۴	۰.۳۵۱۶۷	۰.۰۰۰۰۰	+
		$\Rightarrow c = ۰.۳۵۱۶۷$		

پس جواب معادله ی ما برابر است با :

$$E = ۰.۳۵۱۶۷ \text{ Rad} = ۲۰^\circ ۸' ۵۷.۱۴''$$

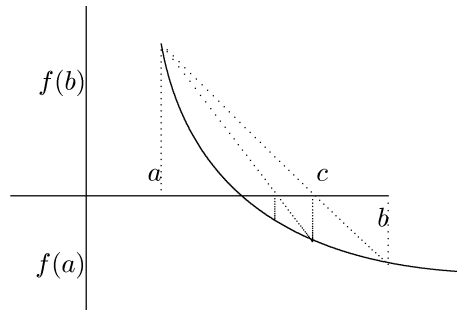
۳.۶ روش وتر

در این روش پس از برقراری ۳ شرط، وتر ی از نقطه ی $M|_{f(b)}$ به $N|_{f(a)}$ می کشیم. این وتر محور ox را در نقطه ای چون c قطع می کند. اکنون اگر $f(c)$ با $f(a)$ هم علامت باشد، a را با c عوض می کنیم و گرنه b را با c عوض می کنیم و دوباره کار را آغاز می کنیم. دستور کار چنین است: ابتدا معادله ی وتر MN را می نویسیم :

$$y - f(a) = \frac{f(b) - f(a)}{b - a} \cdot (x - a)$$

$$y = ۰ \Rightarrow x - a = -\frac{(b - a)f(a)}{f(b) - f(a)}$$

$$\Rightarrow c = x = +\frac{a - b}{f(b) - f(a)} \cdot f(a)$$



مثال . معادله ی کپلر به ازای $M = 0.3$ و $e = 0.15$ حل کنید. (با دقت 0.00001 رادیان)

حل .

سه شرط ، را قبلا بررسی کرده ایم ، حال با توجه به الگوریتم مذکور داریم:

$$c = \frac{a - b}{(b - a) + 0.15(\sin a - \sin b)} \cdot (a - 0.15 \sin a - 0.3)$$

حال :

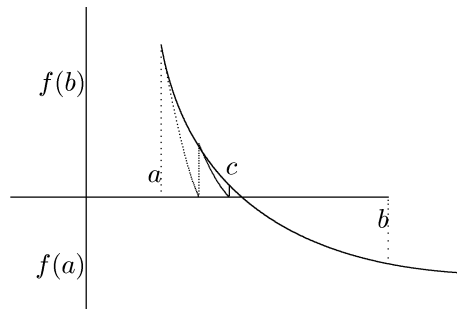
a^-	b^+	c	$f(c)$	sign
0.15	0.45	0.20112	-0.128836717	-
0.201129746	0.45	0.15003	-0.172383853	-
0.150037415	0.45	0.20109	-0.12887	-
0.201092411	0.45	0.15015	-0.17229	-
0.150153558	0.45	0.20097	-0.12897	-
0.200976539	0.45	0.15027	-0.17218	-
0.150276915	0.45	0.15067	-0.17184	-
0.200455041	0.45	0.15079	-0.17174	-
0.15078939	0.45	0.20034	-0.12950	-
⋮	⋮	⋮	⋮	⋮
		$C = 0.35167$	0.00000	

پس جواب معادله ی ما برابر است با :

$$E = 0.35167 \text{ Rad} = 20^\circ 8' 57.14''$$

۴.۶ روش مماس (روش نیوتون - رافسون)

در این روش علاوه بر سه شرط قبلی باید علامت $f''(x)$ در بازه $[a, b]$ تغییر نکند. در این روش پیاپی از نقطه M یا N مماس بر خط $y = f(x)$ می کشیم. اگر همه ی شرایط درست باشد، آنگاه حاصلضرب $f(x) \cdot f''(x)$ در یکی از دو نقطه مثبت و دیگری منفی می شود. نقطه مناسب برای شروع آنجا است که $f(x) \cdot f''(x)$ مثبت باشد.



حال مطابق شکل :

$$y - f(a) = f'(a)(x - a) \Rightarrow x_1 = a - \frac{f(a)}{f'(a)}$$

به همین ترتیب می فهمیم که :

$$x_n = x_{n-1} - \frac{f(x_{n-1})}{f'(x_{n-1})}$$

مثال . معادله ی کپلر به ازای $M = 0.3$ و $e = 0.15$ حل کنید. (با دقت 0.00001 رادیان)

حل .

ابتدا به بررسی شرط چهارم می پردازیم :

IV

$$f(E) = E - 0.15 \sin E - 0.3 \Rightarrow f''(x) = 0.15 \cos E > 0, \forall E \in [a, b]$$

حال :

x_1	$0.45 - \frac{0.45 - 0.15 \sin 0.45 - 0.3}{1 - 0.15 \cos 0.45} = 0.3520095$
x_2	0.3516699
x_3	0.351669897
x_4	0.351669879
$\Rightarrow E = 0.35166$	

پس جواب معادله ی ما برابر است با :

$$E = 0.35167 \text{ Rad} = 20^\circ 8' 57.14''$$

5.6 روش نقطه ی ثابت

در این روش ابتدا درستی ۳ شرط را بررسی می کنیم سپس تابع $f(x) = 0$ را به آرایشی چون $x = g(x)$ در می آوریم .
آن آرایش قابل قبول است که دو شرط زیر را داشته باشد:

a.

$$x \in [a, b] \Rightarrow g(x) \in [a, b]$$

b.

$$x \in [a, b] \quad , \quad |g'(x)| < 1$$

در حالت کلی پس از انتخاب شایسته می توان نشان داد که $x_n = g(x_{n-1})$ همگرا است. در نتیجه :

$$\lim_{x \rightarrow \infty} x_n = c$$

که البته در حالت خاصی که ذکر کرده ایم این روش جواب نمی دهد.

6.6 روش جانشانی های مکرر

این روش به نحوی همانند روش مماس است .
اگر E_0 مقدار تقریبی و $E_0 + \Delta E_0$ مقدار واقعی باشد، داریم :

$$(E_0 + \Delta E_0) - e \sin(E_0 + \Delta E_0) = M$$

$$\Rightarrow E_0 + \Delta E_0 - e \sin E_0 \cdot \cos \Delta E_0 - e \cos E_0 \cdot \sin \Delta E_0 = M$$

از آنجا که $\cos \Delta E_0 \approx 1$ و $\sin \Delta E_0 \approx \Delta E_0$:

$$E_0 + \Delta E_0 - e \sin E_0 - e \cos E_0 \cdot \Delta E_0 = M \Rightarrow (E_0 - e \sin E_0) + \Delta E_0 (1 - e \cos E_0) = M$$

$$\Rightarrow \Delta E_0 = \frac{M - (E_0 - e \sin E_0)}{1 - e \cos E_0}$$

$$\Rightarrow E = \Delta E_0 + E_0 = \frac{M - (E_0 - e \sin E_0)}{1 - e \cos E_0} + E_0$$

اما مقدار $M = E_0$ انتخاب می کنیم. در نتیجه:

$$E_1 = \frac{M - M \cdot e \cos M - e \sin M}{1 - e \cos M}$$

$$E_2 = E_1 + \frac{M - (E_1 - e \sin E_1)}{1 - e \cos E_1}$$

⋮

$$E_n = E_{n-1} + \frac{M - (E_{n-1} - e \sin E_{n-1})}{1 - e \cos E_{n-1}}$$

۷.۶ بسط تیلور

هر تابع اختیاری $g(x)$ را می توان به وسیله ی سری توانی از x نشان داد.

$$f(x) = a_0 + a_1 x + a_2 x^2 + \dots = \sum_{k=0}^{\infty} a_k x^k$$

در اینجا با فرض مجاز بودن مشتق گیری، داریم:

$$\frac{df}{dx} = f'(x) = a_1 + 2a_2 x + 3a_3 x^2 + \dots$$

با تعیین $f'_0(x)$ در $x = 0$ داریم:

$$a_1 = f'(x)|_{x=0}$$

برای مشتق دوم داریم:

$$\frac{d^2 f}{dx^2} = f''(x) = 2!a_2 + 3!a_3x + \dots$$

مجددا در $x = 0$ داریم:

$$2!a_2 = f''(x)|_{x=0} \Rightarrow a_2 = \frac{1}{2} f''(x)|_{x=0}$$

پس در حالت کلی داریم:

$$f(x) = f(0) + f'(0)x + f''(0) \cdot \frac{x^2}{2!} + f'''(0) \cdot \frac{x^3}{3!} + \dots = \sum_{n=0}^{\infty} \frac{f^{(n)}(x) x^n}{n!}$$

این سری اگر همگرا باشد، می توان تقریب خوبی از $f(x)$ به ازای مقادیر کوچک x به دست می دهد.

حال با تقریب مرتبه سوم:

$$f(x) \cong f(0) + f'(0)x + f''(0) \cdot \frac{x^2}{2!} + f'''(0) \cdot \frac{x^3}{3!}$$

$$M = E - e \sin E \Rightarrow \sin M = \sin(E - e \sin E) \equiv f(e)$$

در اینجا متغیر ما $x = e$ است. در نتیجه:

$$f(e = 0) = 0, \quad f'(e = 0) = -\cos E \cdot \sin E, \quad f''(e = 0) = -\sin^3 E$$

حال:

$$\sin M \cong \sin E - e \sin E \cos E - \frac{e^2}{2!} \sin^3 E$$

$$\sin^3 E = \sin E \cdot \frac{(1 - \cos^2 E)}{2} = \frac{\sin E}{2} - \frac{1}{2} \sin E \cdot \cos^2 E = \frac{1}{2} \sin E - \frac{1}{4} (\sin^3 E - \sin E)$$

$$\Rightarrow \sin E = \sin M + \frac{1}{2} e \sin^2 E + \frac{e^2}{2} \left[\frac{1}{2} \sin E - \frac{1}{4} \sin^3 E + \frac{1}{4} \sin E \right]$$

حال برای ادامه ی کار اینچنین میکنیم:

$$\sin^2 M = \sin^2(E - e \sin E) \equiv g(e)$$

$$f(e = \circ) = \sin \sphericalangle E, \quad f'(e = \circ) = -\sphericalangle \cos \sphericalangle E \sin E, \quad f''(e = \circ) = -\sphericalangle \sin \sphericalangle E \sin \sphericalangle E$$

$$\Rightarrow \sin \sphericalangle M = \sin \sphericalangle E - \sphericalangle e \overbrace{\sin E \cos \sphericalangle E}^{\sin \sphericalangle E - \sin E} - \sphericalangle e^\sphericalangle \overbrace{\sin \sphericalangle E \sin \sphericalangle E}^{\sphericalangle - \cos \sphericalangle E}$$

$$\Rightarrow \sin \sphericalangle E = \sin \sphericalangle M + \sphericalangle e \sin \sphericalangle E + \sphericalangle e \sin E + e^\sphericalangle \sin \sphericalangle E - \frac{e^\sphericalangle}{\sphericalangle} \sin \sphericalangle E$$

باز دوباره :

$$\sin \sphericalangle M = \sin(\sphericalangle E - \sphericalangle e \sin E) \equiv h(e)$$

$$f(e = \circ) = \sin \sphericalangle E, \quad f'(e = \circ) = -\sphericalangle \cos \sphericalangle E \sin E, \quad f''(e = \circ) = -\sphericalangle \sin \sphericalangle E \sin \sphericalangle E$$

$$\sin \sphericalangle M \cong \sin \sphericalangle E - \sphericalangle e \overbrace{\cos \sphericalangle E \sin E}^{\frac{\sphericalangle}{\sphericalangle} \sin \sphericalangle E - \frac{\sphericalangle}{\sphericalangle} \sin \sphericalangle E} - \frac{\sphericalangle}{\sphericalangle} e^\sphericalangle \overbrace{\sin \sphericalangle E \sin \sphericalangle E}^{\sphericalangle - \cos \sphericalangle E}$$

$$\Rightarrow \sin \sphericalangle M = \sin \sphericalangle E - \frac{\sphericalangle}{\sphericalangle} e \sin \sphericalangle E + \frac{\sphericalangle}{\sphericalangle} e \sin \sphericalangle E - \frac{\sphericalangle}{\sphericalangle} e^\sphericalangle \sin \sphericalangle E + \frac{\sphericalangle}{\sphericalangle} e^\sphericalangle \sin \sphericalangle E \cos \sphericalangle E$$

$$\Rightarrow \sin \sphericalangle M = \sin \sphericalangle E \left(1 - \frac{\sphericalangle}{\sphericalangle} e^\sphericalangle (1 - \cos \sphericalangle E)\right) - \sphericalangle e \sin \sphericalangle E (\cos \sphericalangle E + \frac{1}{\sphericalangle})$$

$$\cong \sin \sphericalangle E - \sphericalangle e [\sin \sphericalangle M + \sphericalangle e \sin \sphericalangle E + \sphericalangle e \sin E + e^\sphericalangle \sin \sphericalangle E - \frac{e^\sphericalangle}{\sphericalangle} \sin \sphericalangle E]$$

$$\cong (1 + \sphericalangle e) \sin \sphericalangle E - \sphericalangle e \sin \sphericalangle M - \sphericalangle e^\sphericalangle \sin E$$

$$\Rightarrow \sin \sphericalangle E = (1 - \sphericalangle e) \sin \sphericalangle M + \sphericalangle e (1 - \sphericalangle e) \sin \sphericalangle M + \sphericalangle e^\sphericalangle (1 - \sphericalangle e) \sin E$$

$$\Rightarrow \sin \sphericalangle E = (1 - \sphericalangle e) \sin \sphericalangle M + (\sphericalangle e - \sphericalangle e^\sphericalangle) \sin \sphericalangle M + \sphericalangle e^\sphericalangle \sin E$$

اکنون با جایگزاری داریم :

$$\sin E = \sin M + \frac{1}{\sphericalangle} e (\sin \sphericalangle M + \sphericalangle e \sin \sphericalangle E + \sphericalangle e \sin E) + \frac{e^\sphericalangle}{\sphericalangle} \sin E - \frac{e^\sphericalangle}{\sphericalangle} \sin \sphericalangle E + \frac{e^\sphericalangle}{\sphericalangle} \sin E$$

در پایان به دست می آوریم:

$$\sin E = \left(1 - \frac{e^2}{\lambda}\right) \sin M + \frac{1}{\lambda} e \sin 2M + \frac{e^2}{\lambda^2} \sin 3M$$

مثال . معادله ی کپلر به ازای $M = 0.3$ و $e = 0.15$ حل کنید. (با دقت

0.00001 رادیان)

حل .

طبق رابطه ای که به دست آوردیم:

$$E = \arcsin\left[\left(1 - \frac{(0.15)^2}{\lambda}\right) \sin(0.3) + \frac{1}{\lambda} \times 0.15 \sin(2 \times 0.3) + \frac{e^2}{\lambda^2} (0.15^2) \times \sin(3 \times 0.3)\right] = 0.35168 \text{ rad}$$

۸.۶ بسط تیلور ۲

هما نگونه که در قسمت قبل گفتیم :

$$f(x) = \sum_{n=0}^{\infty} \frac{f^n(x) x^n}{n!}$$

حال اگر $f(x) = \sin(x)$ اختیار کنیم آنگاه معادله ی کپلر به صورت زیر تبدیل می شود:

$$M - E + e\left(E - \frac{E^3}{3!} + \frac{E^5}{5!} + \dots\right) = 0$$

ما می توانیم بسط را تا هر چه قدر که بخواهیم گسترش دهیم اما تا مرتبه ۵ یا ۳ برای حل های معمولی کافی و مقبول است. اکنون باید این معادله را حل کنیم. ابتدا معادله را به فرم استاندارد باز نویسی می کنیم .

$$\left(\frac{e}{5!}\right)E^5 - \left(\frac{e}{3!}\right)E^3 + (e-1)E + M = 0$$

اکنون به بررسی تقریبی ریشه ی معادله می پردازیم. یکی از روش های حل روش فاکتور گیری درجه دوم است. ابتدا به دنبال دو عدد r و s هستیم به گونه ای که:

$$a_1 x^n + a_2 x^{n-1} + \dots + a_{n-1} x + a_{n+1} = (x^2 - rx - s)(b_1 x^{n-2} + b_2 x^{n-3} + \dots + b_{n-2} + b_{n-1})$$

سپس همین کار را برای چند جمله ای درجه $n-2$ انجام می دهیم تا به درجه ی اول یا عدد ثابت برسیم.

چند جمله ای زیر را بنگرید :

$$a_1 x^n + a_2 x^{n-1} + \dots + a_{n-1} x + a_{n+1} = (x^2 - rx - s)(b_1 x^{n-2} + b_2 x^{n-3} + \dots + b_{n-2} + b_{n-1})$$

$$+b_n(x-r) + b_{n+1}$$

هدف به دست آوردن r و s مناسبی است به طوری که اندازه ی b_n و b_{n+1} صفر شود یا به اندازه ی کافی کوچک شود. برای رسیدن به این خواسته باید دستگاه دو معادله دو مجهولی زیر را حل کنیم .

$$\begin{cases} b_n(r, s) = 0 \\ b_{n+1}(r, s) = 0 \end{cases}$$

برای حل این دستگاه به روش تیلور عمل می کنیم
روش تیلور. دستگاه معادلات زیر را در نظر می گیریم :

$$\begin{cases} f(x, y) = 0 \\ g(x, y) = 0 \end{cases}$$

ابتدا حدس اولیه ای چون (x_0, y_0) برای ریشه می زنیم. اکنون دستگاه را به صورت زیر می نویسیم:

$$\begin{cases} f(x_0 + h, y_0 + k) = 0 \\ g(x_0 + h, y_0 + k) = 0 \end{cases}$$

آن ها را با بسط تیلور بسط می دهیم :

$$\begin{cases} f(x, y) = f(x_0, y_0) + h \frac{\partial f}{\partial x} \Big|_{(x_0, y_0)} + k \frac{\partial f}{\partial y} \Big|_{(x_0, y_0)} + \dots \\ g(x, y) = g(x_0, y_0) + h \frac{\partial g}{\partial x} \Big|_{(x_0, y_0)} + k \frac{\partial g}{\partial y} \Big|_{(x_0, y_0)} + \dots \end{cases}$$

که در آن $x - x_0 = h$ و $y - y_0 = k$ در نتیجه با اولین تقریب :

$$\begin{cases} 0 = f(x_0, y_0) + h \frac{\partial f}{\partial x} \Big|_{(x_0, y_0)} + k \frac{\partial f}{\partial y} \Big|_{(x_0, y_0)} \\ 0 = g(x_0, y_0) + h \frac{\partial g}{\partial x} \Big|_{(x_0, y_0)} + k \frac{\partial g}{\partial y} \Big|_{(x_0, y_0)} \end{cases}$$

حال این دستگاه را حل می کنیم

$$h = \frac{\begin{vmatrix} -f & f_y \\ -g & g_y \end{vmatrix}}{\begin{vmatrix} f_x & f_y \\ g_x & g_y \end{vmatrix}} \quad k = \frac{\begin{vmatrix} f_x & -f \\ g_x & -g \end{vmatrix}}{\begin{vmatrix} f_x & f_y \\ g_x & g_y \end{vmatrix}}$$

h و k را در (x_0, y_0) محاسبه می کنیم و سپس از آن به عدد های بهتری برای ریشه معادله ها می رسیم.

$$\begin{cases} x_1 = x_0 + h_0 \\ y_1 = y_0 + k_0 \end{cases}$$

و این کار را تکرار می کنیم:

$$\begin{cases} x_n = x_{n-1} + h_{n-1} \\ y_n = y_{n-1} + k_{n-1} \end{cases}$$

اکنون که روش تیلور را یاد گرفتیم به حل دستگاه مذکور می پردازیم. مطابق دستور تیلور:

$$h = \frac{\begin{vmatrix} -b_n & \frac{\partial b_n}{\partial s} \\ -b_{n+1} & \frac{\partial b_{n+1}}{\partial s} \end{vmatrix}}{\begin{vmatrix} \frac{\partial b_n}{\partial r} & \frac{\partial b_n}{\partial s} \\ \frac{\partial b_{n+1}}{\partial r} & \frac{\partial b_{n+1}}{\partial s} \end{vmatrix}} \quad k = \frac{\begin{vmatrix} \frac{\partial b_n}{\partial r} & -b_n \\ \frac{\partial b_{n+1}}{\partial r} & -b_{n+1} \end{vmatrix}}{\begin{vmatrix} \frac{\partial b_n}{\partial r} & \frac{\partial b_n}{\partial s} \\ \frac{\partial b_{n+1}}{\partial r} & \frac{\partial b_{n+1}}{\partial s} \end{vmatrix}}$$

حال به نحوه ی محاسبه ی مولفه های دترمینان های بالا می پردازیم .
 با بررسی متوجه می شویم: $b_i = a_i + rb_{i-1} + sb_{i-2}$. حال برای محاسبه ی $\frac{\partial b_n}{\partial r}$ و $\frac{\partial b_{n+1}}{\partial r}$:

$$\frac{\partial b_1}{\partial r} = 0$$

$$c_1 = \frac{\partial b_2}{\partial r} = b_1$$

$$c_2 = \frac{\partial b_3}{\partial r} = b_2 + rc_1$$

⋮

$$c_{n-1} = \frac{\partial b_n}{\partial r} = b_{n-1} + rc_{n-2} + sc_{n-3}$$

$$c_n = \frac{\partial b_{n+1}}{\partial r} = b_n + rc_{n-1} + sc_{n-2}$$

در آخر برای یافتن $\frac{\partial b_n}{\partial s}$ و $\frac{\partial b_{n+1}}{\partial s}$:

$$\frac{\partial b_1}{\partial s} = 0$$

$$\frac{\partial b_2}{\partial s} = 0$$

⋮

$$c_{n-2} = \frac{\partial b_n}{\partial s} = b_{n-1} + r c_{n-2} + s c_{n-3}$$

$$c_{n-1} = \frac{\partial b_{n+1}}{\partial s} = b_n + r c_{n-1} + s c_{n-2}$$

اکنون به نتیجه نهایی می‌رسیم

$$h = \frac{\begin{vmatrix} -b_n & c_{n-2} \\ -b_{n+1} & c_{n-1} \end{vmatrix}}{\begin{vmatrix} c_{n-1} & c_{n-2} \\ c_n & c_{n-1} \end{vmatrix}} \quad k = \frac{\begin{vmatrix} c_{n-1} & -b_n \\ c_n & -b_{n+1} \end{vmatrix}}{\begin{vmatrix} c_{n-1} & c_{n-2} \\ c_n & c_{n-1} \end{vmatrix}}$$

مثال . معادله ی کپلر به ازای $M = 0.3$ و $e = 0.15$ حل کنید. (با دقت 0.3 رادیان)
حل .

با بسط تیلور معادله کپلر به دست آوردیم که :

$$\left(\frac{0.15}{5!}\right)E^5 - \left(\frac{0.15}{3!}\right)E^3 + (0.15 - 1)E + 0.3 = 0$$

$$0.000125E^5 - 0.025E^3 - 0.85E + 0.3 = 0$$

با صرف نظر از جمله ی بسیار کوچک مرتبه پنجم :

مقدار اولیه های $r_0 = -1$ و $s_0 = 0.5$ را اتخاذ می‌کنیم حال b_i و c_i را تعیین می‌کنیم :

a_i		b_i		c_i	
a_1	0.025	b_1	0.025	c_1	0.025
a_2	0	b_2	-0.025	c_2	0.05
a_3	0.85	b_3	0.8875	c_3	0.85
a_4	0	b_4	-0.9	c_4	-1.725

پس دترمینان ها می‌شوند:

$$h_0 = \frac{\begin{vmatrix} -b_3 & c_1 \\ -b_4 & c_2 \end{vmatrix}}{\begin{vmatrix} c_2 & c_1 \\ c_3 & c_2 \end{vmatrix}} = \frac{\begin{vmatrix} -0.8875 & 0.025 \\ 0.9 & 0.05 \end{vmatrix}}{\begin{vmatrix} 0.05 & 0.025 \\ 0.85 & 0.05 \end{vmatrix}} = 3.57$$

$$k_o = \frac{\begin{vmatrix} c_2 & -b_2 \\ c_3 & -b_3 \end{vmatrix}}{\begin{vmatrix} c_2 & c_1 \\ c_3 & c_2 \end{vmatrix}} = \frac{\begin{vmatrix} 0.05 & -0.8875 \\ 0.85 & 0.9 \end{vmatrix}}{\begin{vmatrix} 0.05 & 0.025 \\ 0.85 & 0.05 \end{vmatrix}} = -42.63$$

پس :

$$r_1 = r_o + h_o = -1 + 3.57 = 2.57 \quad , \quad s_1 = s_o + k_o = 0.5 - 42.63 = -42.13$$

دوباره :

a_i		b_i		c_i	
a_1	0.025	b_1	0.025	c_1	0.025
a_2	0	b_2	0.07425	c_2	0.1285
a_3	0.85	b_3	-0.03812	c_3	-0.76113
a_4	0	b_4	-2.8048	c_4	-10.3116

و

$$h_1 = \frac{\begin{vmatrix} -b_2 & c_1 \\ -b_4 & c_2 \end{vmatrix}}{\begin{vmatrix} c_2 & c_1 \\ c_3 & c_2 \end{vmatrix}} = \frac{\begin{vmatrix} 0.03812 & 0.025 \\ 2.8048 & 0.1285 \end{vmatrix}}{\begin{vmatrix} 0.1285 & 0.025 \\ -0.76113 & 0.1285 \end{vmatrix}} = -1.942$$

$$k_1 = \frac{\begin{vmatrix} c_2 & -b_2 \\ c_3 & -b_3 \end{vmatrix}}{\begin{vmatrix} c_2 & c_1 \\ c_3 & c_2 \end{vmatrix}} = \frac{\begin{vmatrix} 0.1285 & 0.03812 \\ 0.76113 & 2.8048 \end{vmatrix}}{\begin{vmatrix} 0.1285 & 0.025 \\ -0.76113 & 0.1285 \end{vmatrix}} = 9.87$$

وباز

$$r_2 = r_1 + h_1 = 0.627 \quad , \quad s_2 = s_1 + k_1 = -32.26$$

a_i		b_i		c_i	
a_1	0.025	b_1	0.025	c_1	0.025
a_2	0	b_2	0.015675	c_2	-0.7908
a_3	0.85	b_3	-0.7967	c_3	-2.100
a_4	0	b_4	-1.005	c_4	23.189

$$h_2 = \frac{\begin{vmatrix} -b_2 & c_1 \\ -b_4 & c_2 \end{vmatrix}}{\begin{vmatrix} c_2 & c_1 \\ c_3 & c_2 \end{vmatrix}} = \frac{\begin{vmatrix} 0.7967 & 0.025 \\ -1.005 & -0.7908 \end{vmatrix}}{\begin{vmatrix} -0.7908 & 0.025 \\ -2.100 & -0.7908 \end{vmatrix}} = -0.91$$

$$k_3 = \frac{\begin{vmatrix} c_3 & -b_3 \\ c_3 & -b_4 \end{vmatrix}}{\begin{vmatrix} c_3 & c_1 \\ c_3 & c_2 \end{vmatrix}} = \frac{\begin{vmatrix} -0.7908 & 0.7966 \\ -2.100 & 1.005 \end{vmatrix}}{\begin{vmatrix} -0.7908 & 0.025 \\ -2.100 & -0.7908 \end{vmatrix}} = 1.29$$

در تکرار دیگر

$$r_3 = r_2 + h_3 = -0.283 \quad , \quad s_3 = s_2 + s_3 = -30.97$$

a_i		b_i		c_i	
a_1	0.025	b_1	0.025	c_1	0.025
a_2	0	b_2	-0.0070	c_2	-0.01415
a_3	0.85	b_3	0.0777	c_3	-0.6925
a_4	0	b_4	0.1948	c_4	-0.3834

$$h_3 = \frac{\begin{vmatrix} -b_3 & c_1 \\ -b_4 & c_2 \end{vmatrix}}{\begin{vmatrix} c_3 & c_1 \\ c_3 & c_2 \end{vmatrix}} = \frac{\begin{vmatrix} -0.0777 & 0.025 \\ -0.1948 & -0.01415 \end{vmatrix}}{\begin{vmatrix} -0.01415 & 0.025 \\ -0.6925 & -0.01415 \end{vmatrix}} = 0.34$$

$$k_3 = \frac{\begin{vmatrix} c_3 & -b_3 \\ c_3 & -b_4 \end{vmatrix}}{\begin{vmatrix} c_3 & c_1 \\ c_3 & c_2 \end{vmatrix}} = \frac{\begin{vmatrix} -0.01415 & -0.0777 \\ -0.6925 & -0.1948 \end{vmatrix}}{\begin{vmatrix} -0.01415 & 0.025 \\ -0.6925 & -0.01415 \end{vmatrix}} = -2.9$$

$$r_4 = r_3 + h_3 = 0.057 \quad , \quad s_4 = s_3 + k_3 = -33.87$$

گفتیم که هدف این است که جمله های $b_n(x-r) + b_{n-1}$ های $b_n(x-r) + b_{n-1}$ تا جای ممکن به صفر نزدیک شوند. برای این که محاسبات ما از دقتی که نیاز داریم بیشتر باشد باید $|b_n| + |b_{n+1}|$ کمتر از دقت ما باشد. یعنی در اینجا $0.3 > |b_n| + |b_{n+1}|$ که بعد از چهار مرحله به دست آورده ایم: $0.3 \leq |b_3| + |b_4|$ اکنون با توجه به توضیحات قبلی

$$\overbrace{0.025}^{a_1} x^3 + \overbrace{0.85}^{a_2} x - \overbrace{0.3}^{a_3} = (x^2 - rx - s)(b_1 x + b_2) = 0$$

$$= (x^2 + 0.057x + 33.87)(0.025x + 0.007) \Rightarrow x_3 = 0.28$$

که جواب ما برابر است: $E \cong 0.28 rad$

۹.۶ بسط فوریه

بسط فوریه برای بسط دادن توابع مثلثاتی بسیار کارآمد است، معادله ی کپلر را می توان این گونه بسط داد:

$$M = E - e \sin E \Rightarrow E = M + e \sin E$$

$$E = M + \sum_{n=1}^{\infty} \left[\frac{e^n}{n} J_n(n e) \sin(n M) \right]$$

به طوری که $J_n(n e)$ رابطه ی بسط نام دارد که تعریف می شود:

$$J_n(n e) = \sum_{j=0}^{\infty} \frac{(-1)^j}{j!(n+j)!} \left(\frac{n e}{2} \right)^{n+2j}$$

در نتیجه :

$$E \cong M + [2 J_1(e) \sin M] + [J_2(2e) \sin 2M] + \left[\frac{2}{3} J_3(3e) \sin 3M \right] + \dots$$

از طرفی :

$$J_1(e) = \frac{e}{2} - \frac{e^3}{16} + \frac{e^5}{384} + \dots$$

$$J_2(e) = \frac{e^2}{2} - \frac{e^4}{6} + \frac{e^6}{48} + \dots$$

$$J_3(e) = \frac{9e^3}{16} - \frac{81e^5}{256} + \frac{729e^7}{10240} + \dots$$

با جایگزاری تا مرتبه ۱۵ داریم :

$$E = M + \left(e - \frac{e^3}{8} + \frac{e^5}{192} \right) \sin M + \left(\frac{e^2}{2} - \frac{e^4}{6} \right) \sin 2M + \left(\frac{3e^3}{8} - \frac{27e^5}{128} \right) \sin 3M$$

و تا مرتبه سوم داریم:

$$E = M + e \sin M + \frac{e^2}{2} \sin 2M + \frac{3e^3}{8} \sin 3M$$

و در نقاطِ نزدیک به حضیض به راحتی می توان نشان داد که :

$$E \cong M[1 + e + e^2 + e^3]$$

مثال . معادله ی کپلر به ازای $M = 0.3$ و $e = 0.15$ حل کنید. (با دقت 0.00001 رادیان)

حل .

مطابق بسط مرتبه سه ی سری فوریه:

$$E = 0.3 + 0.15 \times \sin 0.3 + \frac{(0.15)^2}{2} \times \sin 0.6 + \frac{3 \times (0.15)^3}{8} \times \sin 0.9 = 0.35167 \text{ rad}$$

۷ اسم های خاص

- [1] Kepler
- [2] Teylor
- [3] Fourier

۸ مراجع

- [1] W.m.Smart; "spherical astronomy", chapter 5
- [2] Arya.Atam Parkash ; "Introduction to Celestial Mechanics", chapter 6

LN-02

Kepler's Equation;

Solving ways and Survey in Gravitational Orbits

Ali Izadi Rad

hiaino@yahoo.com
